

PROVA 1



Leia com atenção


- Esta prova tem duração de 4 horas e é constituída de 10 questões objetivas em cada uma das seguintes disciplinas:
Língua Portuguesa
História
Geografia
Língua Inglesa
- Na folha de respostas dos testes, assinale apenas uma alternativa, usando **caneta esferográfica azul ou preta** e preenchendo com cuidado o alvéolo correspondente. Não rasure ou amasse a folha de respostas nem a utilize para qualquer outra finalidade. Será anulada a questão em que for assinalada mais de uma alternativa ou que estiver totalmente em branco.
- Utilize, para rascunhos, qualquer espaço disponível no caderno de questões.
- Após o término da prova, devolva ao fiscal de sala todo o material que você recebeu, devidamente identificado nos locais adequados.
- Não será permitido ao candidato retirar-se da sala antes de decorrida uma hora e meia do início das provas, salvo em caso de extrema necessidade.
- Mantenha sua cédula de identidade sobre a carteira.
- Atenda às determinações do fiscal de sala.

BOA PROVA!

Obras literárias

Vidas secas, de Graciliano Ramos
O alienista, de Machado de Assis
A rosa do povo, de Carlos Drummond de Andrade
Poemas completos, de Alberto Caeiro
Negrinha, de Monteiro Lobato

Língua Portuguesa
História
Geografia
Língua Inglesa



Elabore um texto dissertativo, em linguagem formal, cujo título seja:

“Estou on-line, logo existo.”

A leitura dos textos abaixo (verbais ou não-verbais) pode orientar sua argumentação.

Atenção: Não copie frases dos textos sugeridos. Elabore seu texto expondo seu ponto de vista sobre o assunto.

1)



2) Orkut é o paraíso da enganação virtual

Publicidade, Folha de S. Paulo, **28/02/2007**.

[...] Encarnar um personagem é um expediente bastante usado para esconder a identidade de usuários racistas e de bisbilhoteiros. Chamados "fakes" ou "bogus", os perfis falsos podem servir como uma representação do que a pessoa gostaria de ser, se vivesse em um mundo sem regras. "Se alguém faz uma ofensa racista a uma pessoa dentro de um shopping, ela pode ser punida na mesma hora. Quando o racismo é difundido pela internet, há uma grande sensação de impunidade", explica Honorato. As representações virtuais, porém, não têm vidas totalmente próprias.

De acordo com os psicólogos ouvidos pela **Folha**, os sites de relacionamento são apenas potencializadores de traços já existentes na personalidade. Alguns torcedores de futebol descarregam suas reclamações nas comunidades de times rivais. Outros usam a rede para combinar o local para brigas após as partidas.

Assédio moral

O "bullying", termo, em inglês, que resume as gozações e perseguições feitas na escola, foi transferido para o mundo virtual. Existem comunidades que tiram sarro de garotos obesos, de baixinhos, de meninas com cabelos enrolados e etc. A vergonha passada pelas vítimas do desrespeito via internet é prolongada. "Muitas vezes, as situações que acontecem dentro do Orkut têm importância maior para a vítima do que as da vida comum", explica a psicóloga e professora da Universidade Ibirapuera, Ivelise Fortim. Mais gente pode ver as gozações, e a pessoa se sente ainda pior, pois imagina uma repercussão exagerada da brincadeira de mau gosto.

3) Galera

<http://jornal.valeparaibano.com.br/2007/07/06/viv01/galera1.html>

DOENÇA – É por causa justamente da falta de equilíbrio de alguns internautas que cientistas constataram uma nova doença: a síndrome de abstinência da net. Os sintomas freqüentes do vício são: ficar muitas horas navegando na internet, faltar à escola, trabalho, ou levantar muito cedo ou dormir muito tarde para ficar no computador.

"A situação se torna problemática quando a pessoa se priva da vida social", pontua a psicóloga Simone Januário, que afirma que essa é uma realidade muito recente, porém já há estudos sérios sobre o assunto.

4) Exterminador do passado

Bernardo Carvalho

As celebridades e os reality shows fazem parte do mesmo universo dos blogs pessoais e de uma literatura que, originária e devedora dos blogs, foi reduzida a crônica, expressão da opinião e da experiência pessoal.

A exemplo da encenação pública da intimidade, o eu dos blogs é uma projeção que se realiza numa segunda realidade, numa rede de inter-relacionamentos constituída por confrarias cujos parâmetros são os seus próprios limites, o elogio do igual, a reiteração do mesmo e a execração do diferente.

5) Os filhos da era digital

Kátia Mello e Luciana Vicária (Época/setembro/2007)

Os educadores dizem que não há mais como o PC não fazer parte do cotidiano dessa garotada. Eles afirmam que tanto os jogos lúdicos quanto os softwares educacionais podem ser benéficos, porque auxiliam no raciocínio e, conseqüentemente, na evolução mental. [...] No Brasil, a professora Maria Teresa Freitas, coordenadora do Grupo de Pesquisa e Linguagem da Universidade Federal de Juiz de Fora, que estuda a escrita de adolescentes na Internet, afirma que eles "lêem e estudam mais com a rede". Para ela, os blogs, os diários virtuais, também são boas ferramentas para a escrita. A professora afirma que as conversas nos chats – espaço para os papos virtuais – contribuem para o pensamento crítico e ajudam a desenvolver uma melhor argumentação. Quando as crianças discutem um livro ou uma música pelo Chat, são obrigadas a pensar no assunto e explicá-lo de forma rápida.

As questões de 1 a 7 referem-se ao texto a seguir:

Os cinco graus e o vazio tecnológico

Jô Hallack, Nina Lemos, Raq Affonso (Folhateen, Folha de S.Paulo, 20/08/2007)

Antes, uma teoria dizia que todas as pessoas estavam a seis graus de separação umas das outras. Ou seja: se você fuçar bem, está ligada a qualquer pessoa do mundo por seis graus (ou seis passos). De qualquer um, de Osama a Bush. Fizemos o teste e sempre deu certo. Por exemplo: nós conhecemos o Supla, que conhece o Lula, que conhece o Bush. E damos uma dica para ganhar, basta você conhecer alguém que conhece o Lula. Depois de chegar no Bush, o jogo fica fácil.

Agora, justo quando aprendemos a ganhar, a teoria mudou. Com a superexposição causada pelas novas tecnologias, você está a apenas cinco graus de alguém! Ou a três, a dois, a um. Muito mais perto, mais rápido e mais instantâneo. Afinal, você tem 140 amigos de MSN, 200 amigos de Orkut, mais uma penca no MySpace, participa de várias comunidades na Internet, fica on-line o dia inteiro, pode até ter um blackberry para receber seus e-mails quando não está no computador.

Fica muito mais fácil conhecer alguém. Ou conhecer alguém que é amigo de alguém. Ou até mesmo ser superamigo de fulano, que, infelizmente, você nunca encontrou pessoalmente. Basicamente, você passa a ser amigo do mundo todo. Amigo “numas”, né? Podemos ser amigas do Beck no MySpace. Mas, sinceramente, o que isso significa mesmo?

É aí que surge o vazio tecnológico. Que também pode ser chamado de tédio do novo milênio. Não foi catalogado por nenhum pesquisador ainda, mas já existe. Começa com uma sensação de, apesar de ter mil amigos na vida on-line, você tem uns dois ou três quando está off-line. O Beck nem sabe que você existe. Seu melhor amigo parou de atender telefone em uma espécie de revolta íntima e só fala por MSN. E parece que uma pessoa morre para a gente quando some do mundo virtual. Como disse o gênio e compositor Ewerton Assunção...”Eu vou te deletar/ te excluir do meu Orkut/ Eu vou te bloquear no MSN/ Não me mande mais scraps/ Nem e-mail Power Point”!

A angústia do vazio tecnológico também pode ser percebida quando você começa a ter preguiça da superexposição internética. E a ficar de saco cheio de entrar em comunidades, blogs e, ainda mais, de ler os posts. Talvez o vazio tecnológico culmine com você desligando o computador.

Mas, aí, o tédio dá lugar à aflição off-line. E você imagina que, quando está off-line... você nem mesmo existe.

1. Assinale a alternativa em que o emprego do advérbio sublinhado sinaliza uma síntese:

- a) “Agora, justo quando aprendemos a ganhar, a teoria mudou.”
- b) “Ou até mesmo ser superamigo de fulano, que, infelizmente, você nunca encontrou pessoalmente.”
- c) “Ou até mesmo ser superamigo de fulano, que, infelizmente, você nunca encontrou pessoalmente.”
- d) “Basicamente, você passa a ser amigo do mundo todo.”
- e) “Mas, sinceramente, o que isso significa mesmo?”

2. Considere as seguintes afirmações a respeito do texto:

- I. A existência está condicionada à exposição na Internet.
- II. Entre a antiga teoria e a nova, na verdade, não há diferença substancial: em ambas o cerne está nas ligações que mantemos com as outras pessoas do mundo.
- III. O vazio tecnológico é instalado progressivamente.
- IV. Estar on-line é dar lugar à aflição off-line.

Das afirmações, estão corretas:

- a) I, II e IV
- b) I, II e III
- c) I e IV
- d) II e IV

3. De acordo com o texto, a angústia do vazio tecnológico manifesta-se pelos fatos abaixo, exceto por:

- a) você ter muitos amigos na vida on-line.
- b) o Beck nem saber que você existe.
- c) seu amigo só se comunicar pela Internet.
- d) você acabar tendo preguiça da superexposição internética.
- e) você desligar o computador.

4. A linguagem informal do texto manifesta-se inclusive na pontuação entre as frases. Assinale a alternativa que exemplifica tal afirmação.

- a) “Começa com uma sensação de, apesar de ter amigos na vida on-line, você tem dois ou três quando está off-line.”
- b) “Podemos ser amigas do Beck no MySpace.”
- c) “Basicamente, você passa a ser amigo do mundo todo.”
- d) “Que também pode ser chamado de tédio do novo milênio.”
- e) “Não foi catalogado por nenhum pesquisador ainda, mas já existe.”

5. O neologismo “internética”, em “A angústia do vazio tecnológico também pode ser percebida quando você começa a ter preguiça da superexposição internética.”, pode ser considerado gramaticalmente como:

- a) substantivo derivado.
- b) substantivo composto.
- c) advérbio de base nominal.
- d) advérbio de base pronominal.
- e) adjetivo.

6. Em “Amigo ‘numas’, né?” , na palavra sublinhada, há ocorrência de:

- a) contração da preposição com o verbo.
- b) contração da preposição com o advérbio.
- c) combinação da preposição com o artigo.
- d) combinação do advérbio com o pronome.
- e) contração da preposição com o pronome.

7. Em “Fica muito mais difícil conhecer alguém.”, o verbo sublinhado está na 3ª pessoa do singular porque:

- a) concorda com um sujeito expresso no período anterior.
- b) o sujeito é indeterminado.
- c) o sujeito é oracional.
- d) o verbo é impessoal.
- e) concorda com o pronome indefinido “alguém”.

8. “E a moça desmaiava, e o leitor chorava e a obra recebia etiqueta de histórica, se passada unicamente entre Dons e Donas, ou de indianista, se na manipulação entravam ingredientes do empório Gonçalves Dias, Alencar & Cia.

Veio depois Zola [...], e veio a psicologia e a preocupação com a verdade, tudo por contágio da ciência que Darwin, Spencer e outros demônios derramaram no espírito humano.” (“Marabá” in Negrinha, de Monteiro Lobato)

Com base na leitura do fragmento apresentado, identifique, nas alternativas abaixo, quais são as duas correntes literárias com as quais brinca Monteiro Lobato:

- a) Realismo e Naturalismo
- b) Romantismo e Naturalismo
- c) Romantismo e Modernismo
- d) Realismo e Barroco
- e) Barroco e Modernismo

9. “É impossível dar cabo daquela praga. Estirou os olhos pela campina, achou-se isolado. Sozinho num mundo coberto de penas, de aves que iam comê-lo. Pensou na mulher e suspirou. Coitada de Sinhá Vitória, novamente nos descampados, transportando o baú de folha. Uma pessoa de tanto juízo marchar na terra queimada, esfolar os pés nos seixos, era duro. As arribações matavam o gado. Como tinha Sinhá Vitória descoberto aquilo? Difícil. Ele, Fabiano, espremendo os miolos, não diria semelhante frase.” (Vidas secas, Graciliano Ramos)

O fragmento acima ilustra um dos temas característicos da literatura brasileira que se produziu a partir da década de 30 do séc. XX. Qual é esse tema?

- a) A dureza do trabalho.
- b) O relacionamento amoroso.
- c) O determinismo psicológico.
- d) A migração provocada pela seca.
- e) A procura de paz de espírito.

10. Machado de Assis, no conto “O alienista”, apresenta uma enorme galeria de loucos que se internam na Casa Verde, hospício dirigido pelo Dr. Simão Bacamarte. A preocupação de Machado de Assis, nesse conto, pode estar em:

- a) fazer a apologia da eficiência da ciência.
- b) criticar o sistema de saúde.
- c) refletir sobre aspectos da natureza humana.
- d) provocar humor a partir da crítica às misérias humanas.
- e) registrar unicamente personagens esquisitas.

11. Assinale a única alternativa correta que pode ser relacionada com a sociedade mineira colonial, formada a partir da exploração do ouro no Brasil.

Sobre esse período, leia as afirmativas abaixo:

- a) Centralização do poder por parte do governo português e surgimento de muitas revoltas contra esse controle, aparecimento de núcleos urbanos, maior mobilidade social e surgimento de um incipiente intercâmbio comercial inter-regional.
- b) Descentralização do poder por parte do governo português, aparecimento de núcleos urbanos, maior mobilidade social e surgimento de um incipiente intercâmbio comercial inter-regional.
- c) Centralização do poder por parte do governo português e surgimento de muitas revoltas contra esse controle, aparecimento de núcleos rurais em apoio à atividade mineradora, maior mobilidade social e enfraquecimento do intercâmbio comercial inter-regional.
- d) Centralização do poder por parte do governo português e surgimento de muitas revoltas contra esse controle, aparecimento de núcleos urbanos e surgimento de uma sociedade democrática, baseada no trabalho assalariado e visando à produção para o mercado interno.
- e) Descentralização do poder por parte do governo português, aparecimento de núcleos urbanos, aumento do intercâmbio comercial entre as diversas regiões, visando à formação do mercado interno, democratização das relações entre colônia e metrópole e maior mobilidade social.

12. O café foi o principal produto da economia do Segundo Reinado. Apesar de se alastrar por toda a região litorânea próxima à capital, Rio de Janeiro, foi no vale do Paraíba que prosperou.

Assinale a única alternativa correta versando sobre os motivos pelos quais o café prosperou nessa região, entre 1830 e 1880, a ponto de se dizer, na época, que “o Brasil é o vale”:

- a) Como no vale do Paraíba não houve o cultivo do açúcar, a plantação do café não exigiu disputas políticas nem gastos na desmontagem dos engenhos.
- b) A regularidade do relevo do vale do Paraíba garantiu o desenvolvimento do cultivo do café na região.
- c) A elite política da região garantiu incentivos fiscais que favoreceram a inserção do cultivo do café na região.
- d) A fixação do café no vale do Paraíba deveu-se às condições geográficas excepcionais da região: proximidade dos portos de escoamento e da capital; relevo acidentado de encostas que protegiam, do vento, as plantações de café.
- e) O fato de José Bonifácio ter nascido em Taubaté foi determinante para a escolha do vale do Paraíba para o desenvolvimento do cultivo do café.

13. Assinale a única alternativa correta.

No século XIX, a imigração europeia para o Brasil foi um processo ligado:

- a) a uma política oficial e deliberada de povoamento, desejosa de fixar contingentes brancos em áreas estratégicas e atender a grupos de proprietários na obtenção de mão-de-obra.
- b) a uma política organizada pelos abolicionistas para substituir paulatinamente a mão-de-obra escrava das regiões cafeeiras e evitar a escravização em novas áreas de povoamento no sul do País.
- c) à política de cunho militar estabelecida desde D. João VI para a ocupação das fronteiras do sul e para a constituição de propriedades de criação de gado destinadas à exportação de charque.
- d) à política do partido liberal visando atrair novos grupos europeus para as áreas agrícolas, com a implantação de um meio alternativo de produção baseado em minifúndios.
- e) à política oficial de povoamento baseada nos contratos de parceria, como forma de estabelecer mão-de-obra assalariada nas áreas de agricultura de subsistência e de exportação.

14. Sobre o “arraial de Canudos”, é unicamente incorreto afirmar que:

- a) foi uma comunidade formada no sertão da Bahia no final do século XIX.
- b) foi organizada e liderada pelo beato Antônio Conselheiro.
- c) seu líder tinha uma opinião monarquista e, por conseqüência, anti-republicana.
- d) foram necessárias 4 expedições militares para dissolver a comunidade, a qual era considerada uma ameaça à ordem republicana.
- e) foi uma comunidade completamente fechada, auto-suficiente e sem relações comerciais com cidades e regiões próximas.

15. Assinale a única afirmativa correta, no que se refere à campanha pelas eleições diretas em 1984.

- a) A campanha pelas eleições diretas foi uma iniciativa da Assembléia Constituinte.
- b) As manifestações de apoio à campanha pelas eleições diretas restringiram-se à cidade de São Paulo.
- c) O movimento pelas eleições diretas não envolveu a população.
- d) As eleições diretas estavam previstas no plano de redemocratização lenta e gradual, lançado pelos últimos governos militares, pois nunca havia ocorrido eleição direta para presidente no Brasil.
- e) O Deputado Federal Dante de Oliveira propôs uma emenda constitucional que restabelecia a eleição direta para a presidência da república.

16. Leia o texto abaixo e, após, assinale a única alternativa correta.

Localizada onde hoje se encontra a cidade de Túnis, ao norte da África, a colônia fenícia de Cartago havia se desenvolvido fortemente, a ponto de se constituir em poderosa rival dos interesses romanos no Mediterrâneo. Por mais de um século os romanos lutaram para destruir Cartago, acabando por arrasá-la (146 a.C.).

Esses acontecimentos são conhecidos como:

- a) Guerras Médicas.
- b) Revolução Cartaginesa.
- c) Guerras Púnicas.
- d) Guerra de Tróia.
- e) Guerra de Reconquista.

17. Leia o texto abaixo e, após, assinale a única alternativa correta.

Em agosto de 1961, na "Conferência Econômica e Social de Punta Del Este", o presidente John Kennedy apresentou aos países latino-americanos o projeto da "Aliança para o Progresso", o qual previa, em linhas gerais, o aperfeiçoamento e fortalecimento das instituições democráticas, mediante a autodeterminação dos povos, a aceleração do desenvolvimento econômico e social dos países latino-americanos, a erradicação do analfabetismo e a garantia aos trabalhadores de uma justa remuneração e adequadas condições de trabalho. Situando a "Aliança para o Progresso" no contexto das relações internacionais vigentes no Pós-Guerra, constatamos que sua criação se deveu ao desejo do governo norte-americano de:

- a) bloquear a acentuada evasão de capitais latino-americanos, resultante das altas taxas de juros pagas aos países integrantes do "Pacto de Varsóvia", por conta dos empréstimos contraídos na década de 50.
- b) conter o avanço dos movimentos revolucionários na América Latina, reafirmando assim a liderança exercida pelos EUA sobre o continente, numa conjuntura de acirramento da Guerra Fria por conta da Revolução Cubana.
- c) canalizar, na América Latina, parte dos investimentos previstos no "Plano Global de Descolonização Afro-Asiática", em virtude das revoluções socialistas de Angola e Moçambique, que tornaram a posição norte-americana na África insustentável.
- d) impedir que a República Federal Alemã, país de orientação socialista, firmasse acordos com a finalidade de transplantar tecnologia nuclear para o Terceiro Mundo, a exemplo do que havia ocorrido no Brasil sob o governo JK.
- e) reabilitar os acordos diplomáticos entre os EUA e os demais países latino-americanos, que haviam sido rompidos quando da invasão de Honduras e do Equador pelas tropas norte-americanas, fortalecendo assim a OEA.

18. O Calvinismo foi:

- a) um movimento, originário da Alemanha, que combatia as taxas cobradas pela Igreja e a doutrina do pecado original, como resultado das questões religiosas locais.
- b) uma derivação das idéias de Calvino elaborada por Lutero, cuja principal idéia, em virtude do direito divino, se prendia ao direito dos reis em dirigir a Igreja cristã.
- c) a mais distanciada seita protestante em relação ao catolicismo e a mais próxima das questões de cunho ético levantadas em virtude do rápido desenvolvimento do capital comercial e financeiro.
- d) o conjunto das idéias de Calvino, cujo alinhamento à Igreja católica romana era a tônica principal de sua doutrina.
- e) uma doutrina católica que reformulou os estudos do culto dos santos, em especial da Virgem Maria, vista como a mãe de Deus.

19. Dentre as conseqüências sociais forjadas pela Revolução Industrial, é possível, única e corretamente, mencionar:

- a) o desenvolvimento de uma camada social de trabalhadores que, destituídos dos meios de produção, passaram a sobreviver apenas da venda de sua força de trabalho.
- b) a melhoria das condições de habitação e sobrevivência para o operariado, proporcionada pelo surto de desenvolvimento econômico.
- c) a ascensão social dos artesãos que reuniram seus capitais e suas ferramentas em oficinas ou domicílios rurais dispersos, aumentando os núcleos domésticos de produção.
- d) a criação do Banco da Inglaterra, com o objetivo de financiar a monarquia e ser uma instituição geradora de empregos.
- e) o desenvolvimento da indústria naval, favorecendo a organização do mercado de trabalho de maneira a assegurar emprego a todos os trabalhadores.

20.

Sobre a crise mundial de 1929, iniciada nos Estados Unidos, assinale a única afirmativa correta.

- a) A crise mundial de 1929 teve como resultado a imediata valorização dos preços da produção industrial e o fim da acumulação de estoques.
- b) A crise mundial de 1929 teve como resultado o aumento do número das sociedades acionárias e da especulação financeira.
- c) A crise mundial de 1929 teve como resultado a expansão do sistema de crédito e do financiamento ao consumidor.
- d) A crise mundial de 1929 teve como resultado o abalo do liberalismo econômico e a tendência para a prática da intervenção do Estado na economia.
- e) A crise mundial de 1929 teve como resultado o crescimento acelerado das atividades de empresas industriais e comerciais, gerando com isso o pleno emprego.

21. No decorrer das últimas quatro décadas e meia, cidadãos cubanos vêm tentando alcançar a Flórida, utilizando-se de improvisadas e toscas embarcações. Esses fatos demonstram um sentimento de descontentamento com o regime socialista de Fidel Castro, que se encontra no meio de uma grave crise, relacionada à (ao):

- a) redução dos preços internacionais dos dois principais produtos de exportação de Cuba: o algodão e a soja.
- b) manutenção do embargo comercial norte-americano, que dificulta a reestruturação da economia do país.
- c) elevação recente das taxas de juros externas, levando o país a se retirar do Fundo Monetário Internacional.
- d) término dos tratados de cooperação econômica, mantidos, à época da Guerra Fria, com a Comunidade Econômica Européia.
- e) avanço de reformas agrárias que vêm obrigando antigos proprietários a fugirem para os EUA, na qualidade de refugiados de guerra.

22. O meio ambiente nas grandes cidades de países tropicais apresenta várias características singulares. Sobre esse contexto, é unicamente correto afirmar que:

- a) o aumento das superfícies impermeabilizadas facilita a geração de escoamento superficial, contribuindo para a ocorrência de enchentes.
- b) o relevo plano das áreas ribeirinhas facilita a sua ocupação, tornando-as aconselháveis para a construção civil.
- c) o desmatamento contribui para reduzir as temperaturas locais, já que, sem a vegetação, reforça-se o papel da umidade como regulador térmico.
- d) a concentração de gases na atmosfera tem estimulado a redução das temperaturas nessas áreas, apesar de elevar o nível de poluição.
- e) as altas temperaturas proporcionam a formação de correntes de ar descendentes, fenômeno que contribui para o aumento das precipitações.

23. Para cada tipo de representação existe uma escala numérica apropriada. Assim, os mapas podem ser divididos em três categorias básicas: escala grande, média e pequena.

Associe as escalas numéricas mais apropriadas para as finalidades dos mapas.

1 – Mapas topográficos	A – 1:50 a 1:100
2 – Plantas urbanas	B – 1:25.000 a 1:250.000
3 – Plantas arquitetônicas	C – 1:500 a 1:20.000

Assinale a alternativa que apresenta a única relação correta entre os números da 1ª coluna (1, 2, 3) com as letras da 2ª coluna (A, B, C):

- a) 1 – B; 2 – A; 3 – C.
- b) 1 – B; 2 – C; 3 – A.
- c) 1 – A; 2 – C; 3 – B.
- d) 1 – A; 2 – B; 3 – C.
- e) 1 – C; 2 – A; 3 – B.

24. Em agosto de 2007, um violento terremoto deixou em ruínas as cidades peruanas de Pisco, Ica e Chicha e fez mais de 500 vítimas fatais. Nos dias que se seguiram ao primeiro abalo, que atingiu 7,9 graus na escala Richter, mais de 400 abalos de menor magnitude foram registrados pelo Instituto Geofísico do Peru. As atividades sísmicas no Peru são decorrentes do processo de convergência das placas em contato naquela região. A teoria que sustenta essa argumentação é conhecida como:

- a) Teoria das Placas Flutuantes.
- b) Teoria das Placas Andinas.
- c) Teoria das Placas Convergentes.
- d) Teoria da Tectônica de Placas.
- e) Teoria de Richter.

25. Leia o texto abaixo e assinale a única alternativa correta.

Assistimos, nos últimos meses, a um novo conflito no Oriente Médio. Os recentes ataques de Israel ao sul do Líbano visavam, segundo o governo israelense, enfraquecer o potencial bélico:

- a) da OLP.
- b) do Hamas.
- c) do IRA.
- d) do Al Quaida.
- e) do Hezbollah.

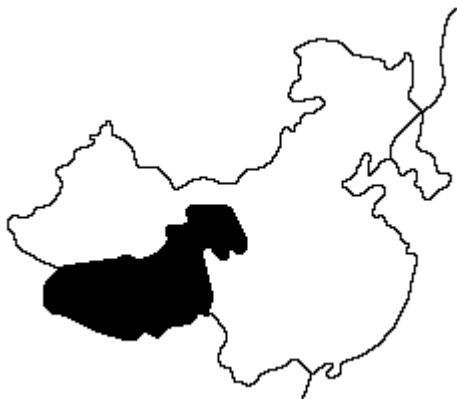
26. Na América Latina, países como o Brasil, o México, a Argentina e o Chile deflagraram processos industriais antes da Segunda Guerra Mundial, baseados no desenvolvimento do mercado interno (substituição de importações) e, mais tarde, em estímulos à indústria de base. No leste asiático, os pequenos 'dragões' ou 'tigres asiáticos' ingressaram na industrialização pós-guerra, utilizando como modelo a exportação de bens de consumo de baixo investimento tecnológico, orientado para o mercado dos países desenvolvidos.

Refletindo para além do texto, pode-se afirmar, unicamente, que os países subdesenvolvidos:

- a) mencionados industrializaram-se em momentos diferentes da história do capitalismo, embora com caminhos diversos, e vêm, aos poucos, superando a situação de pobreza econômica e social.
- b) mencionados podem servir como modelo para todos os demais que desejarem sair da condição de subdesenvolvimento, pois o caminho é a industrialização.
- c) mencionados não tiveram na industrialização o caminho para a superação de seus problemas sociais, uma vez que são, todos eles, países dependentes, política, econômica e tecnologicamente.
- d) podem, de modo geral, seguindo o exemplo dos chamados "tigres asiáticos", tornarem-se desenvolvidos, distanciando-se do tipo de industrialização latino-americana.
- e) não mencionados vêm conhecendo processos mais recentes de industrialização, o que, em prazos maiores ou menores, os levará a superar suas condições de pobreza econômica e social.

27. São características geoeconômicas, da porção destacada no mapa da China, abaixo:

- a) planícies de solos férteis, cortadas pelo rio Yang-Tsé, com economia industrial.
- b) planaltos elevados e pecuárias nômade e seminômade.
- c) baixos planaltos, solos tipo loess e economia agrária.
- d) planaltos rebaixados ocupados pela pecuária intensiva.
- e) planícies aluvionais, clima monçônico e monocultura do arroz.

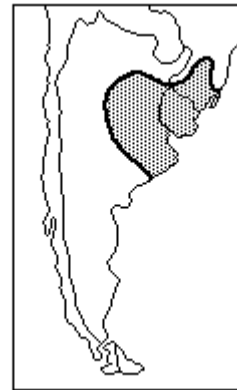


28. A massa de ar responsável pelo fenômeno da "friagem", nos estados de Roraima, Mato Grosso e Acre, é:

- a) de origem polar subantártica, atravessando o Brasil central até atingir a Amazônia.
- b) mais atuante na Amazônia Oriental por ocasião dos equinócios.
- c) formada no Atlântico Sul, esfriando-se ao passar pela corrente das Malvinas.
- d) originada no Anticiclone do Atlântico, entrando pela foz do Amazonas.
- e) de origem andina, transferindo o frio das geleiras das montanhas.

29. O domínio natural, destacado no mapa abaixo, que se estende por trechos da Argentina, Uruguai e Rio Grande do Sul, é denominado:

- a) terra roxa.
- b) pampas.
- c) cerrado.
- d) planalto.
- e) pantanal.



30. Na bacia hidrográfica amazônica ocorrem dificuldades para a implantação de usinas hidroelétricas, porque a região apresenta:

- a) oscilação na vazão fluvial maior que em outras bacias, o que exige grandes reservatórios e altas barragens.
- b) relevo de altiplanos com solos friáveis, que dificultam a execução de barragens.
- c) relevo com pequena variação altimétrica, exigindo extensos reservatórios que podem acarretar forte impacto ao ambiente natural.
- d) relevo plano, regularidade na vazão fluvial e extensa cobertura florestal.
- e) quedas d'água nos baixos cursos dos afluentes do Amazonas, que, nas enchentes, dificultam a geração de energia.

As questões 31 e 32 referem-se ao texto abaixo:

There's no point pretending we all agree.
But at the heart of most arguments, we find an amazing amount of agreement.
For example, people have different views about the methods but we all want to be healthy.
At HSBC we take part in this constant conversation with
125 million customers all over the world.
And we feel all the better for a little healthy debate.

yourpointofview.com
HSBC 
The world's local bank

(NEWSWEEK, June 11, 2007, p.9)

31. O texto refere-se a:

- uma propaganda sobre produtos e ervas medicinais.
- uma propaganda sobre o HSBC.
- uma propaganda sobre produtos medicinais que foi patrocinada pelo HSBC.
- um anúncio, patrocinado pelo HSBC, sobre os danos causados pela ingestão de medicamentos sem prescrição médica.
- um anúncio sobre o número de pessoas atendidas pelo HSBC, à procura de empréstimo para pagamento de medicamentos de alto custo.

32. Leia a oração abaixo, retirada do texto, e responda:

"There's no point pretending we all agree. But at the heart of most arguments, we find an amazing amount of agreement."

A palavra grifada na oração acima é:

- uma preposição.
- uma conjunção.
- uma interjeição.
- um verbo preposicionado.
- um advérbio.

As questões 33 e 34 referem-se ao texto abaixo:

Limits of GDP

How happy are you? Economists generally rely on monetary measures like GDP per capita to answer such questions. After all, satisfying wants is a function of what we consume, and so using per capita income as a proxy for well-being makes sense. However, as the OECD's 2006 edition of *Society at a Glance* reports, income's usefulness becomes less obvious as developed societies reach a situation of plenty; after a certain point, just as money does not buy everything, so well-being does not rise much either.

Also, as the graph indicates, Mexico's high level of satisfaction belies its relatively low GDP, whereas in wealthier Japan, life satisfaction is lower. Measuring individual, rather than country, well-being is a more reliable option, *Society at a Glance* suggests, and one obvious way of doing this is by asking people how they feel about their lives. Their answers may reflect cultural attitudes, transient factors or linguistic

differences, but studies have shown that individuals who report higher levels of life satisfaction are also rated as happier by their relatives and friends. They smile more and deal better with stress, too. They even have higher activity in the pre-frontal part of the brain, which is associated with positive states. While factors such as work,

family, health and education play a role, the report points out that income loss has a bigger effect on well-being than a comparable income gain, partly reflecting pressure to "keep up with the Joneses". ■

OECD (2007), *Society at a Glance: OECD Social Indicators*, 2006 edition, Paris.

Growing dissatisfaction?

Levels of life satisfaction across OECD countries and GDP per capita

Life satisfaction (average score)¹

1: Data on levels of life satisfaction are based on replies to the question: "All things considered, how satisfied are you with your life as a whole these days?"

Source: *Society at a Glance 2006*

(OECD OBSERVER no. 260 – March 2007, p. 40)

33. Tick the alternative which contains the idea of how happy a person is according to economists.

- Work, family, health and education an individual has.
- Cultural attitudes, transient factors or linguistic differences an individual lives.
- The relatives and friends' evaluation of how happy an individual is.
- The wage one receives; if it is a time of income gain, the individuals are happier.
- How smiling a person is; if the individual smiles, he/she is happier.

34. Read the sentences bellow and mark the correct alternative:

According to the graph, Mexico has a higher level of satisfaction than Japan, although it is poorer than Japan. This information, for *Society at a Glance*, 2006 is:

- not reliable since country was measured, not individuals.
- reliable since happiness is measured by the country's cultural attitudes.
- reliable since Japanese people have higher levels of activity in the pre-frontal part of the brain.
- partly reliable since Japanese people have suffered more and smile less than Mexican people.
- reliable, since wealthy people are happier.

- a) I, II, III are respectively correct.
- b) I, III, IV are respectively wrong.
- c) I is the only correct statement.
- d) All statements are incorrect.
- e) All statements are correct.

As questões 35, 36 e 37 referem-se ao texto ao lado:

35. Com qual finalidade se deve usar o número 01858-438819?

- a) Para fazer o pagamento da revista, já que é o código de barra.
- b) Para identificar a Revista que se deseja.
- c) Para fazer a assinatura por telefone.
- d) Para se ler as matérias da Revista, já que é a senha eletrônica.
- e) Para concorrer a uma assinatura gratuita.

36. A que se refere £14.50?

- a) Ao preço unitário da Revista pela internet.
- b) À referência da Revista para pedido.
- c) Ao preço total da assinatura sem desconto.
- d) Ao preço unitário da Revista nas bancas.
- e) Ao preço da assinatura com desconto.

Avoid expensive mistakes

Buy nothing until you buy Vogue

Subscribe now to:

- Save on the cover price - 6 issues only £14.50 (only £2.42 per issue; full price £3.40)*
- Take advantage of a lower subscription rate - with Direct Debit there is no need for costly renewal letters so the price is kept low
- Never miss an issue
- Get Vogue delivered straight to your door for free
- Receive your magazine before it reaches the shops
- Treat a friend



Call our subscription hotline **01858 438819** or register your Direct Debit at www.subscription.co.uk/vogue (ref: 5164)

*Offer valid on 30/11/2008. Cash-in-advance Direct Debit subscription will be renewed at the same low introductory rate. Should the need go up you will be notified at least 10 days in advance. If, with the Direct Debit Guarantee you can cancel at any time and receive a full refund on any issues yet to be mailed. For worldwide rates call +44 (0)1858 438819.

37. Quais erros (*mistakes*) devem ser evitados?

- a) Comprar a Revista diretamente na banca, sem desconto, perdendo a vantagem de recebê-la em casa.
- b) Usar roupas brilhosas e decotadas no local de trabalho.
- c) Vestir-se inadequadamente ou de forma não apropriada à sua idade.
- d) Receber a Revista com atraso.
- e) Utilizar o débito automático para a compra da Revista.

As questões 38, 39 e 40 referem-se ao texto abaixo:

Interview

“Truth Is, I’m the Same Guy I Always Was”

PAUL MCCARTNEY HASN’T SLOWED DOWN. IN THE MIDST OF

a messy divorce, the 40th anniversary of “Sgt. Pepper” and preparations for his 65th birthday, McCartney is releasing his 22nd post-Beatles studio disc, “Memory Almost Full”, on Starbucks’ Hear Music label. Nostalgic yet inventive, it’s his most vibrant record in years – and the first one to come out on Apple’s iTunes store. McCartney spoke to NEWSWEEK’s Andrew Romano and Daniel Klaidman last week by phone while driving through the English countryside to rehearse with his band for an upcoming series of (shh!) secret, small-club shows. Excerpts:



MCCARTNEY: Good morning to the two of you. Welcome to our little soiree.

NEWSWEEK: Let’s start out with the new record, “Memory Almost Full.” It’s absolutely fantastic – your best, I think in some time. I hear a definite Wings influence.

People are saying Wings, but I must admit that I can’t see it. Then again, I’m the worst analyzer of my music ever.

When a song evokes Wings or the Beatles, is that spontaneous or a conscious decision?

I don’t think I ever say, “Let’s write a Beatles song.” But the truth of it is, I’m the same guy I always was. I use virtually the same bunch of tricks that I always have used – and add a few as I go along. Sometimes they resemble Wings or the Beatles just because that’s who I am. No other reason.

(NEWSWEEK, June 11, 2007, pp. 42 e 43)

38. Sobre o texto acima, é incorreto afirmar:

- a) Após um tumultuado divórcio, e, aos 65 anos, Paul McCartney diminuiu o ritmo de trabalho.
- b) “Memory Almost Full” é o primeiro dos seus discos a ser disponibilizado nas lojas eletrônicas da Apple.
- c) Paul McCartney lançou seu último disco, “Memory Almost Full”.
- d) “Memory Almost Full” é o seu disco mais vibrante em muitos anos.
- e) “Memory Almost Full” é o 22º disco de sua produção após a separação dos Beatles.

39. Assinale a alternativa que contém a informação correta a respeito dos seguintes números do texto: 22, 40 e 65:

- a) números cardinais, significando, respectivamente: o último disco de Paul McCartney, 40 anos a partir da separação dos Beatles e aniversário do lançamento do disco “Sgt. Pepper”.
- b) números ordinais, significando, respectivamente: o lançamento do 22º disco de Paul McCartney após a separação dos Beatles, os 40 anos do lançamento do disco “Sgt. Pepper” e o próximo aniversário de Paul McCartney.
- c) números ordinais, significando, respectivamente: a duração do casamento de Paul McCartney, o aniversário de separação dos Beatles e a idade de Paul McCartney.
- d) números cardinais, significando, respectivamente: o lançamento do 22º disco de Paul McCartney após a separação dos Beatles, os 40 anos do lançamento do disco “Sgt. Pepper” e o próximo aniversário de Paul McCartney.
- e) números ordinais, significando, respectivamente: os 22 anos de separação dos Beatles, o quadragésimo aniversário de “Sgt. Pepper” e o próximo aniversário de Paul McCartney.

40. Segundo Paul McCartney, na entrevista, na verdade ele é a mesma pessoa que sempre foi. Assinale a alternativa incorreta em relação a essa afirmativa.

- a) Ele diz que usa os mesmos truques de sempre.
- b) Ele diz que adiciona novos truques à medida que prossegue em sua carreira.
- c) Algumas pessoas dizem que há influência de sua antiga banda Wings em seu novo trabalho.
- d) Suas composições lembram os Wings ou os Beatles somente porque ele foi um dos Beatles e foi o líder dos Wings.
- e) De vez em quando, decide compor uma música ao estilo dos Beatles ou dos Wings.

PROVA 1



GABARITO-RASCUNHO

Língua Portuguesa

História

Geografia

Língua Inglesa

01		11		21		31	
02		12		22		32	
03		13		23		33	
04		14		24		34	
05		15		25		35	
06		16		26		36	
07		17		27		37	
08		18		28		38	
09		19		29		39	
10		20		30		40	

Identificação obrigatória

Nome do candidato: _____

